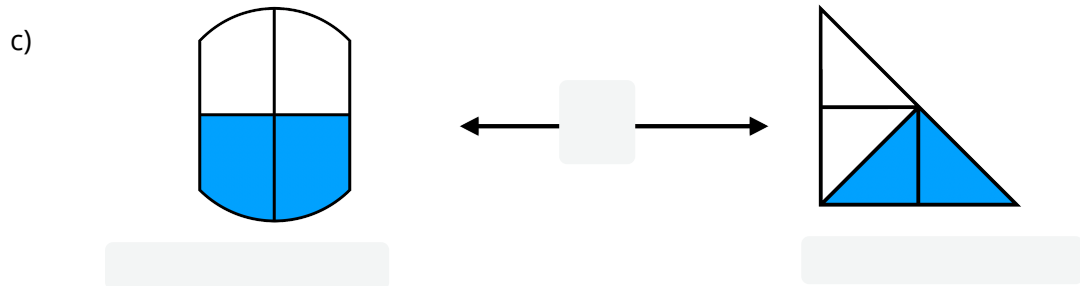
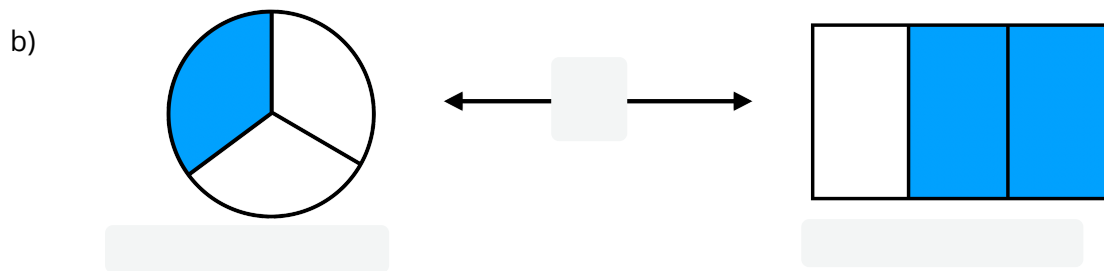
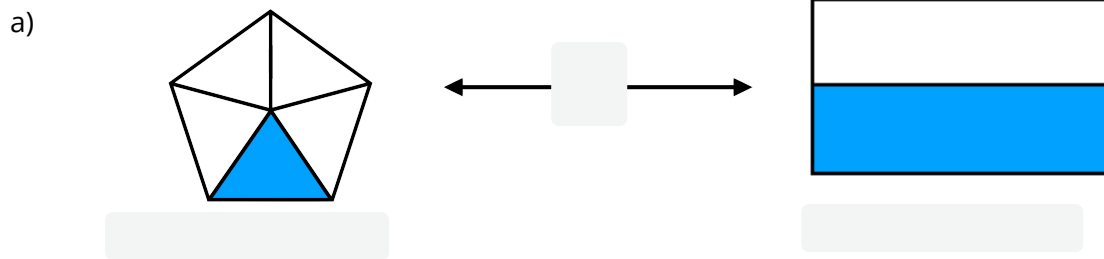


- ① Schreibe unter jede Grafik den richtigen Bruch und füge „<“, „>“ oder „=“ zwischen die zwei Grafiken ein.



- ② Vergleiche die zwei Brüche miteinander. Welcher Bruch ist größer? Setze die Zeichen „<“ und „>“ richtig in die grau gefärbten Lücken ein.

a)  $\frac{3}{4}$    $\frac{4}{4}$

b)  $\frac{1}{39}$    $\frac{1}{12}$

c)  $\frac{1}{400}$    $\frac{1}{500}$

d)  $\frac{1}{7}$    $\frac{1}{10}$

e)  $\frac{1}{10}$    $\frac{1}{11}$

f)  $\frac{1}{100}$    $\frac{1}{101}$