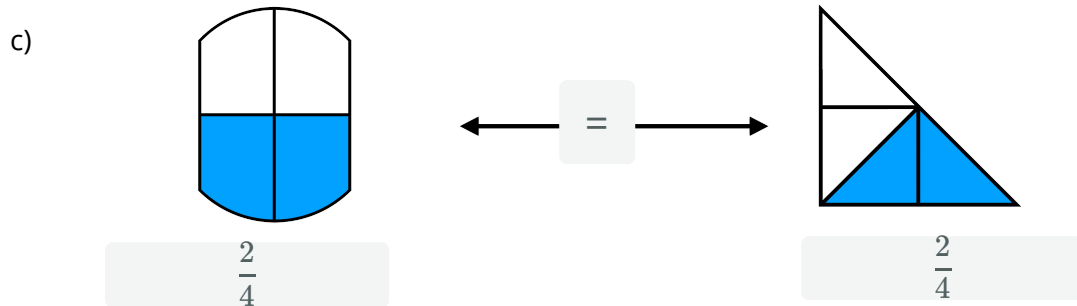
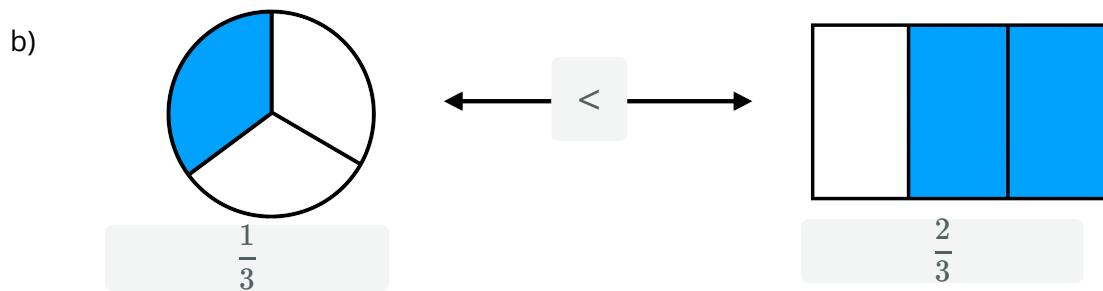
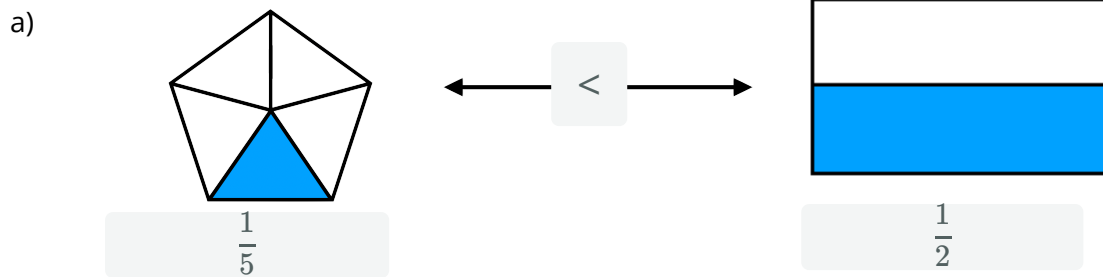


- ① Schreibe unter jede Grafik den richtigen Bruch und füge „<“, „>“ oder „=“ zwischen die zwei Grafiken ein.



- ② Vergleiche die zwei Brüche miteinander. Welcher Bruch ist größer? Setze die Zeichen „<“ und „>“ richtig in die grau gefärbten Lücken ein.

a) $\frac{3}{4} < \frac{4}{4}$

b) $\frac{1}{39} < \frac{1}{12}$

c) $\frac{1}{400} > \frac{1}{500}$

d) $\frac{1}{7} > \frac{1}{10}$

e) $\frac{1}{10} > \frac{1}{11}$

f) $\frac{1}{100} > \frac{1}{101}$